
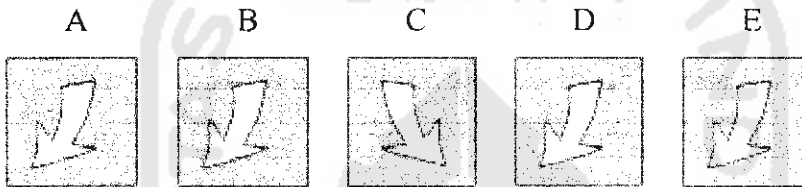


LAMPIRAN 1 Soal Tes IQ Anak

1. Manakah satu dari lima gambar dibawah ini tidak bersamaan dengan empat gambar lainnya?



2.



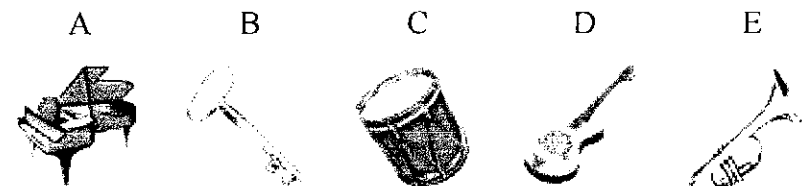
3.



4.



5.



6.

A

B

C

D

E



7.

A

B

C

D

E



8.

A

B

C

D

E



9.

A

B

C

D

E



10.

A

B

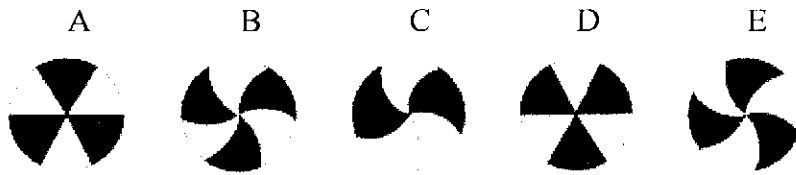
C

D


E



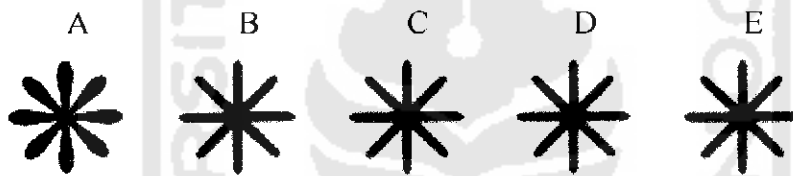
11.



12.



13.



14.



15.



16. Ini adalah sebuah gambar beberapa balok kecil. Berapakah banyaknya balok-balok dalam gambar ini?.

- |   |   |   |   |   |
|---|---|---|---|---|
| A | B | C | D | E |
| 1 | 2 | 3 | 4 | 5 |

17. Ini adalah gambar lain dari beberapa balok-balok. Dalam gambar ini ada dua tingkat balok-balok. Berapa banyakkah balok-balok yang ada dalam gambar ini?.  
(Ingatlah bahwa di bawah setiap balok yang sebelah atas itu ada juga sebuah balok.

- |   |   |   |    |    |
|---|---|---|----|----|
| A | B | C | D  | E  |
| 6 | 8 | 9 | 10 | 11 |

18. Pada soal ini ada lima angka-angka. Angka-angka itu semuanya menjadi bertambah besar. Empat dari angka-angka itu semuanya bertambah besar menurut aturan atau cara tertentu, namun ada satu angka khusus yang tidak mengikuti aturan itu. Manakah satu angka khusus yang tidak mengikuti aturan itu?.

- |   |   |   |   |   |
|---|---|---|---|---|
| A | B | C | D | E |
| 2 | 4 | 6 | 8 | 9 |

19. Soal ini adalah seperti soal di atas. Namun di sini angka ini menjadi lebih kecil menurut beberapa aturan atau cara tertentu. Yang mana satu angka khusus yang tidak mengikuti aturan itu?.

- |    |    |    |    |   |
|----|----|----|----|---|
| A  | B  | C  | D  | E |
| 14 | 12 | 11 | 10 | 8 |

20.

A	B	C	D	E
10	12	15	20	25

21.

A	B	C	D	E
27	23	19	15	12

22.

A	B	C	D	E
15	30	45	60	65

23.

A	B	C	D	E
12	9	6	4	3

24.

A	B	C	D	E
3	9	27	55	81

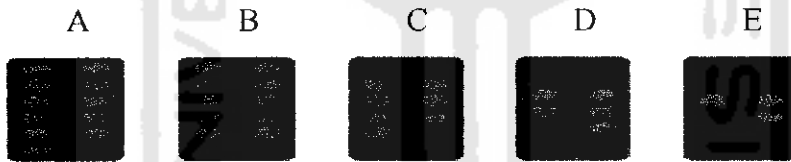
25. Soal-soal berikut sama seperti yang baru kamu kerjakan. Dalam setiap soal-soal berikut, ada lima gambar. Empat dari gambar-gambar itu tidak mempunyai persamaan atau dalam beberapa hal tidak sejalan atau berlainan dengan empat gambar lainnya. Yang mana saja yang tidak sejalan atau berlainan dengan empat gambar lainnya?



26.



27.



28.



29.

A



B



C



D



E



30.

A




B



C



D



E



31.

A



B



C



D



E



32.

A



B



C



D



E




33.

A



B



C



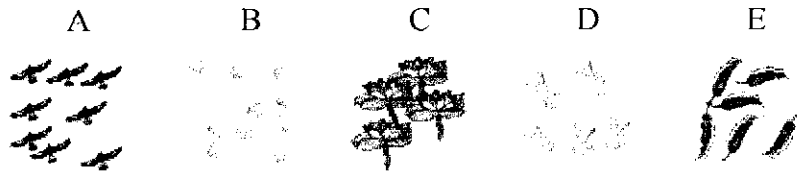
D



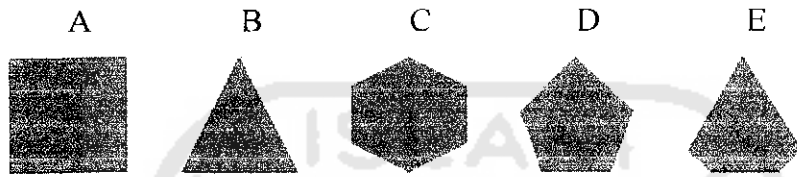
E



34.



35.




36.



37.



38.





39.


A

B

C

D

E



40.

A

B

C

D

E



41.

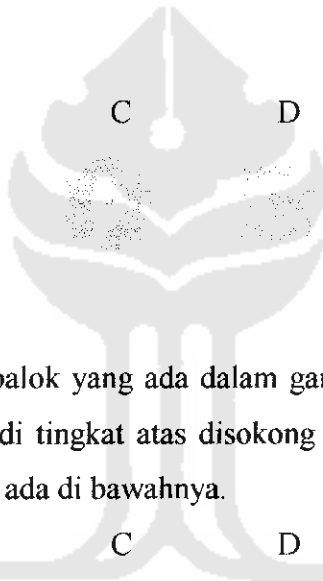
A

B

C

D

E



42. Berapa banyak balok-balok yang ada dalam gambar ini? Ingatlah, bahwa setiap balok-balok yang ada di tingkat atas disokong atau bertumpu pada sebuah atau lebih balok-balok yang ada di bawahnya.

A

B

C

D

E

27

28

29

30

31

43.

A

B

C

D

E

68

69

70

71

73

44. Empat dari angka-angka ini bertambah besar menurut cara atau aturan tertentu. Namun, ada satu angka khusus yang tidak mengikuti aturan. Manakah satu angka khusus yang tidak mengikuti aturan itu?

- | A | B | C | D  | E  |
|---|---|---|----|----|
| 3 | 5 | 7 | 11 | 21 |

45.

- | A  | B  | C  | D  | E |
|----|----|----|----|---|
| 29 | 22 | 18 | 15 | 8 |

46.

- | A | B | C  | D  | E  |
|---|---|----|----|----|
| 3 | 6 | 19 | 15 | 19 |

47.

- | A   | B   | C   | D    | E    |
|-----|-----|-----|------|------|
| 4,6 | 6,9 | 9,2 | 18,4 | 36,8 |

48.

- | A   | B   | C    | D    | E    |
|-----|-----|------|------|------|
| 8,6 | 9,9 | 10,1 | 11,2 | 12,5 |

49.

A B C D E

2 4 8 12 48

50.

A B C D E

501 121 511 11 111

51.

A B C D E

3 6 8 13 18

52.

A B C D E

234 134 112 1 112

53.

A B C D E

12 34 4 71 11

54.

A B C D E

3/6 2/5 1/4 1/3 1/2

55.

A B C D E

35/36 17/18 33/36 31/36 13/18



## Lampiran 2 Tabel Interpretasi

Tabel Interpretasi 1

Umur Anak	SKOR MENTAH												
6th 6bln – 6th 9bln	7	10	11	14	15	16	17	18	19	20	21	24	26
6th 9bln – 7th	9	11	12	15	16	17	18	19	19	20	21	25	26
7th – 7th 3bln	10	11	12	16	17	18	19	20	21	22	24	26	27
7th 3bln – 7th 6bln	11	13	14	17	18	19	20	21	22	23	26	26	28
7th 6bln – 7th 9bln	12	14	16	19	20	21	22	22	23	25	27	28	29
7th 9bln – 8th	13	15	17	19	20	21	22	23	24	25	28	29	30
8th – 8th 3bln	14	16	18	20	21	22	23	23	24	25	28	30	31
8th 3bln – 8th 6bln	14	17	19	20	21	22	23	24	25	26	28	30	32
8th 6bln – 8th 9bln	15	18	19	20	21	22	23	24	25	26	28	31	32
8th 9bln – 9th	16	18	20	21	22	23	24	25	26	27	29	31	33
9th – 9th 3bln	17	18	20	21	22	23	24	25	26	27	29	33	34
9th 3bln – 9th 6bln	18	19	20	21	22	23	25	26	27	28	29	33	34
9th 6bln – 9th 9bln	18	19	20	22	23	24	25	27	29	30	31	33	34
9th 9bln – 10th	19	20	22	23	24	25	26	28	29	31	32	34	35
10th – 10th 3bln	19	20	22	23	24	25	27	29	30	32	34	35	36
10th 3bl–10th 6bl	19	21	23	25	26	27	29	31	32	33	35	36	37
Perkiraan IQ	65	73	79	86	91	96	100	104	109	104	121	127	133

Tabel 2.2 Tabel Interpretasi 2

Umur Anak	SKOR MENTAH												
10th 6bl – 10th 9bl	8	11	13	17	18	19	20	22	22	23	24	25	27
10th 9bl – 11th	9	12	15	17	18	19	21	22	23	25	26	27	28
11th – 11th 3bl	10	12	15	17	18	20	21	22	23	25	28	30	31
11th 3bl – 11th 6bl	10	13	16	17	19	21	22	23	24	27	28	30	31
11th 6bl – 11th 9bl	12	13	16	17	20	21	22	23	25	27	29	31	32
11th 9bl – 12th	12	13	17	18	20	21	22	23	25	27	29	31	32
12th – 12th 3bl	13	14	17	18	20	21	22	24	25	27	29	31	33
12th 3bl – 12th 6bl	13	15	17	18	20	21	23	24	26	28	29	31	33
12th 6bl – 12th 9bl	14	15	18	19	21	22	23	24	26	28	29	31	33
12th 9bl – 13th	14	15	18	19	21	22	23	25	27	28	30	31	34
13th – 13th 3bl	14	16	18	20	21	22	24	25	27	28	30	31	34
13th 3bln –13th 6bl	15	16	19	20	22	23	24	26	27	28	30	31	34
13th 6bln –13th 9bl	15	17	19	21	22	23	24	26	27	28	30	32	35
13th 9bl – 14th	16	28	20	21	22	24	25	26	27	29	31	32	35
14th – 14th 3bl	17	19	20	21	23	24	25	26	27	29	32	33	35
14th 3bl–14th 6bl	18	19	20	22	23	24	25	27	28	29	32	34	36
Perkiraan IQ	65	73	79	86	91	96	100	104	109	104	121	127	133

Tabel 2.3 Tabel Interpretasi 3

Umur Anak	SKOR MENTAH													
14th 6bl – 14th 9bl	11	12	13	14	17	19	20	21	23	24	26	27	29	
15th – 15th 6bl	12	13	14	15	18	20	21	21	24	25	27	28	29	
15th 6bl – 16th	12	13	14	16	19	20	22	22	25	26	28	28	29	
16 thn	13	14	14	17	19	21	22	23	25	26	28	29	30	
Perkiraan IQ	65	73	79	86	91	96	100	104	109	104	121	127	133	

